



**Đề thi**

**Trạng Nguyên  
Toàn Tài 5**

**(Năm 2021)**

\* Tài liệu dành tặng cho học sinh





## ĐỀ THI TRẠNG NGUYÊN TOÀN TÀI LỚP 5



(Năm học 2020 – 2021)

### TRẠNG NGUYÊN TOÀN TÀI - CẤP HUYỆN

#### Bài 1: Mèo con nhanh nhẹn

Em hãy giúp bạn mèo ghép 2 ô đã cho để tạo thành cặp tương ứng.

1 lighter	2 câu lạc bộ	3 salt	4 dự án	5 cái bật lửa
6 	7 cartoon	8 club	9 win	10 hạt giống
11 chiến thắng	12 sugar	13 đường	14 bookshelf	15 popcorn
16 hoạt hình	17 project	18 muối	19 seed	20 



<input type="text"/>	và	<input type="text"/>	;	<input type="text"/>	và	<input type="text"/>	;	<input type="text"/>	và	<input type="text"/>	;	<input type="text"/>	và	<input type="text"/>	;	<input type="text"/>	và	<input type="text"/>
<input type="text"/>	và	<input type="text"/>	;	<input type="text"/>	và	<input type="text"/>	;	<input type="text"/>	và	<input type="text"/>	;	<input type="text"/>	và	<input type="text"/>	;	<input type="text"/>	và	<input type="text"/>



## Bài 2: Chuột vàng tài ba

Em hãy giúp bạn chuột nối các ô chứa nội dung với các giỏ chủ đề phù hợp, những ô không đúng với các chủ đề, em không nối.

0,51 x 0,9

1,32 : 10

54 : 12

12,6 : 3

0,45 x 3

60,9 : 15

11,96 : 23

1,2 + 1,5

49,4 : 26

1,54 + 1,5

3,46 + 1,05

0,25 x 10

42,09 : 23

0 < ... < 1

1 < ... < 2

4 < ... < 5

### Bài 3: Trắc nghiệm

Em hãy khoanh tròn trước chữ cái có câu trả lời đúng.

**1. Than có nhiều ở đâu?**

- A. Quảng Ngãi      B. Quảng Ninh      C. Quảng Trị      D. Quảng Bình

**2. Dòng nào dưới đây nêu đúng tính chất của gang?**

- A. là kim loại màu trắng, ánh kim, nhẹ, có thể kéo thành sợi, dát mỏng  
B. là kim loại có tính dẻo, dễ uốn, dễ kéo thành sợi, dễ rèn  
C. là hợp kim của sắt và các-bon, cứng, bền, dẻo, dễ kéo thành sợi, khó bị gỉ  
D. là hợp kim của sắt và các-bon, cứng, giòn không thể uốn hay kéo thành sợi

**3. Làng nghề chiếu cói Nga Sơn thuộc tỉnh thành phố nào của nước ta?**

- A. Tiền Giang      B. Thanh Hóa      C. Ninh Bình      D. Ninh Thuận

**4. Các địa danh Bắc Kạn, Chợ Mới, Chợ Đồn gợi cho em nhớ đến sự kiện nào?**

- A. Chiến thắng Điện Biên Phủ năm 1954  
B. Chiến dịch Biên giới thu - đông 1950  
C. Cách mạng tháng Tám năm 1945  
D. Chiến dịch Việt Bắc thu - đông 1947

**5. Phong trào Xô viết Nghệ - Tĩnh diễn ra vào thời gian nào?**

- A. 1927 - 1928      B. 1929 - 1930      C. 1930 - 1931      D. 1931 - 1932

**6. Ở nước ta, đất phe-ra-lit tập trung chủ yếu ở đâu?**

- A. ven biển      B. đồng bằng      C. đồi núi      D. quần đảo

**7. Điền từ còn thiếu trong khổ thơ sau:**

*Hạt gạo làng ta  
Gửi ra tiền tuyến  
Gửi về phương xa  
Em vui em hát  
Hạt ... làng ta.*

(Theo Trần Đăng Khoa)

- A. ngọc      B. vàng      C. mưa      D. gạo

8. Các cặp quan hệ từ: "không những ... mà, không chỉ ... mà" biểu thị quan hệ gì?

- A. quan hệ nguyên nhân - kết quả  
B. quan hệ điều kiện - kết quả  
C. quan hệ tăng tiến  
D. quan hệ tương phản

9. Khổ thơ sau đây có bao nhiêu từ viết sai chính tả?

*Trong làn nắng ửng: khói mơ tan  
Đôi mái nhà tranh lấm tấm vàng  
Sột xoạt gió truê tà áo biếc  
Trên dàn thiên lí. Bóng xuân xang.*  
(Theo Hàn Mặc Tử)

- A. 1  
B. 2  
C. 3  
D. 4

10. Giải câu đố sau:

*Là ai trên Bạch Đằng Giang  
Làm cho cọc nhọn, dọc ngang sáng ngời  
Phá quân Nam Hán tới bờ  
Gươm thần độc lập giữa trời vung lên?*

- A. Nguyễn Trãi  
B. Ngô Quyền  
C. Mạc Đĩnh Chi  
D. Lý Nhân Tông

## TRẠNG NGUYÊN TOÀN TÀI - CẤP TỈNH



### Bài 1: Chuột vàng tài ba

Em hãy giúp bạn chuột nối các ô chứa nội dung với các giỏ chủ đề phù hợp, những ô không đúng với các chủ đề, em không nối.

The illustration shows a matching exercise with the following mathematical expressions in boxes:

- $231 \times 0,07$
- $693:39,6$
- $235 \times 0,08$
- $851:37-4,5$
- $636,5:38$
- $952,8:48$
- $658,6:37$
- $943,25:49$
- $756:48$
- $588,6:36$
- $602,3:38$
- $898,8:56$
- $588:35$

The baskets on the right have the following labels:

- Top basket:  $15,5 \leq \dots \leq 16,25$
- Middle basket:  $16,5 \leq \dots \leq 17,75$
- Bottom basket:  $18,25 \leq \dots \leq 19,75$



## Bài 2: Trâu vàng yên bác

Em hãy giúp bạn trâu điền chữ còn thiếu vào chỗ trống.

e	x	p		o	r	e	
s		e	n	e	r	y	
f		r	e	i	g	n	
g	e	n	t		e		
p	r	e		t	y		
p	r	o	j	e		t	
c		e	v	e	r		
a		d	r	e	s	s	
a	n		i	e	n	t	
p	r	a	c		i	s	e

### Bài 3: Trắc nghiệm

Em hãy khoanh tròn trước chữ cái có câu trả lời đúng.

1. Đâu *không* phải là phát minh của Tô-mát Ê-đi-xơn ?

- A. bóng đèn                      B. máy bay                      C. máy ghi âm                      D. máy chiếu phim

2. Cao su nhân tạo thường được chế biến từ:

- A. đất sét và chất dẻo                      C. than đá và dầu mỏ  
B. than bùn và đất sét                      D. nhựa cây cao su và chất dẻo

3. Những địa danh: Him Lam, Độc Lập, Bản Kéo, Mường Thanh gọi đến chiến dịch nào?

- A. chiến dịch Hòa Bình  
B. chiến dịch Điện Biên Phủ  
C. chiến dịch Việt Bắc thu - đông 1947  
D. chiến dịch Biên giới thu - đông 1950

4. Theo hiệp định Giơ-ne-vơ, dòng sông nào được chọn là giới tuyến phân chia tạm thời 2 miền Bắc - Nam?

- A. sông Thu Bồn                      C. sông Gianh  
B. sông Cả                      D. sông Bến Hải

5. Khu di tích Mỹ Sơn thuộc tỉnh, thành phố nào?

- A. Quảng Ngãi                      B. Quảng Nam                      C. Quảng Bình                      D. Quảng Trị



**6. Châu Á không tiếp giáp với đại dương nào?**

- A. Bắc Băng Dương  
B. Đại Tây Dương  
C. Thái Bình Dương  
D. Ấn Độ Dương

**7. Câu nào dưới đây là câu ghép?**

- A. Chị Sứ yêu biết bao nhiêu cái chôn này, nơi chị oa oa cất tiếng khóc đầu tiên, nơi quả ngọt trái sai đã thấm hồng da thịt chị.  
B. Mưa sầm sập đổ xuống, bụi nước tỏa trắng ngàn.  
C. Khuôn mặt dòng sông lộ ra ửng hồng, tươi rói như khuôn mặt em bé vừa ra khỏi chiếc nôi ấm.  
D. Những bông hoa trong khu vườn nở rộ, ngát hương thơm.

**8. Quan hệ từ nào thích hợp để điền vào câu thơ sau?**

*... ai rào giậu ngăn sân  
Lòng ta vẫn giữ là dân cù Hồ.*

(Tố Hữu)

- A. Nếu  
B. Bằng  
C. Dù  
D. Vì

**9. Thành ngữ, tục ngữ nào dưới đây viết chưa đúng?**

- A. Thiên binh vạn mã  
B. Thiên biến địa hóa  
C. Thiên la địa võng  
D. Thiên hình vạn trạng

**10. Câu nào dưới đây có từ "bà" là đại từ?**

- A. Mái tóc bà đã điểm bạc.  
B. Bà em năm nay đã ngoài 70 tuổi.  
C. Cháu chào bà ạ!  
D. Con đến nhà bà chơi mẹ nhé!

## TRẠNG NGUYÊN TOÀN TÀI - CẤP QUỐC GIA



### Bài 1: Chuột vàng tài ba

Em hãy giúp bạn chuột nối các ô chứa nội dung với các giỏ chủ đề phù hợp, những ô không đúng với các chủ đề, em không nối.

Mathematical problems and ranges shown in the illustration:

- $\frac{17}{5} + 7\frac{3}{4}$
- $22,386 : 1,64$
- $4\frac{3}{5} + \frac{46}{5}$
- $43,719 : 3,54$
- $10,25 \leq \dots \leq 12,25$
- $9 + \frac{9}{4}$
- $191,13 : 13,85$
- $35,328 : 3,45$
- $12,5 \leq \dots \leq 13,5$
- $\frac{38}{4} + \frac{11}{4}$
- $37,259 : 2,65$
- $\frac{56}{4} - \frac{4}{5}$
- $53,72 : 4,25$
- $30,143 : 2,15$
- $\frac{41}{4} + 2\frac{4}{5}$
- $13,75 \leq \dots \leq 14,15$



## Bài 2: Trâu vàng uyên bác

Em hãy giúp bạn trâu điền chữ còn thiếu vào chỗ trống.

b	u	f	f		l	o	
s	t	a		i	u	m	
m	i	d		l	e		
e	l	e		h	a	n	t
b		c	k	a	c	h	e
o		t	o	p	u	s	
m	u		e	u	m		
b		i	d	g	e		
e	a		a	c	h	e	
p		g	o	d	a		

### Bài 3: Trắc nghiệm

Em hãy khoanh tròn trước chữ cái có câu trả lời đúng.

1. Biển báo nào dưới đây là biển cấm dừng và đỗ xe?

A.



B.



C.



D.



2. Nhận xét nào dưới đây *không* đúng khi nói về năng lượng?

A. Năng lượng mặt trời dùng để chiếu sáng, sưởi ấm, đun nấu, phát điện,...

B. Người ta không thể tạo ra dòng điện từ năng lượng gió.

C. Từ năng lượng nước chảy người ta có thể tạo ra dòng điện.

D. Người ta có thể sử dụng năng lượng nước làm sạch vật bị bẩn.

3. Ai được nhân dân tôn là "Bình Tây Đại nguyên soái"?

A. Nguyễn Trung Trực

C. Trương Định

B. Nguyễn Hữu Huân

D. Hồ Huân Nghiệp

4. Điền các mốc thời gian thích hợp vào chỗ trống sau:

*Cuối năm ..... đầu năm ....., phong trào "Đồng Khởi" nổ ra và thắng lợi ở nhiều vùng nông thôn miền Nam. Bến Tre là nơi tiêu biểu của phong trào "Đồng khởi".*

A. 1958 – 1959

C. 1960 - 1961

B. 1959 – 1960

D. 1961 – 1962

5. Nước ta có bao nhiêu tỉnh có chữ “Bình”?

- A. 6                                      B. 7                                      C. 8                                      D. 9

6. Ngôi đền nổi tiếng Ăng-co Vát thuộc lãnh thổ quốc gia nào?

- A. Cam-pu-chia  
B. Thái Lan  
C. Mi-an-ma  
D. Lào

7. Điền từ thích hợp vào chỗ trống:

*Nhìn ra xa ...*

*Bao sắc màu cỏ hoa*

*Con thác réo ...*

*Đàn dê soi đáy suối.*

(Theo Nguyễn Đình Ảnh)

- A. ngút ngàn - du dương                                      C. ngút ngát - ngân nga  
B. bát tậ - dịu dặt    D. bát ngát - rì rầm

**8. Điền từ còn thiếu vào chỗ trống trong câu sau:**

*Tiên trách ..., hậu trách ...*

- A. địa – thiên      B. thân – quân      C. kỉ - nhân      D. đệ - huynh

**9. Em hãy sắp xếp các câu văn dưới đây để được một đoạn văn hoàn chỉnh.**

(1) *Màu xanh ấy như trường cửu, lúc nào cũng bát ngát, cũng trẻ trung, cũng phơi phới.*

(2) *Đất trời Hạ Long bốn mùa sáng nắng.*

(3) *Thiên nhiên Hạ Long chẳng những kì vĩ mà còn duyên dáng.*

(4) *Nét duyên dáng của Hạ Long chính là cái tươi mát của sóng nước, cái rạng rỡ của đất trời.*

(5) *Bốn mùa Hạ Long mang trên mình một màu xanh đậm thắm: xanh biếc của biển, xanh lam của núi, xanh lục của trời.*

(6) *Sóng nước Hạ Long quanh năm trong xanh.*

- A. (3) - (4) - (5) - (2) - (6) - (1)  
B. (3) - (4) - (6) - (2) - (1) - (5)  
C. (3) - (4) - (6) - (2) - (5) - (1)  
D. (3) - (4) - (6) - (1) - (5) - (2)

**10. Giải câu đố sau:**

*Để nguyên sao sáng ngóng trông  
Bỏ đầu vắng lặng như không có gì  
Thêm "T" thì thật bất ngờ  
Nằm trong lòng ngực từng giờ yêu thương.  
Từ bỏ đầu là từ gì?*

- A. im      B. kim      C. tim      D. lim