



I. Phần trắc nghiệm (3 điểm)

Khoanh tròn vào chữ cái đặt trước câu trả lời đúng

Câu 1: Số ? gồm 5 trăm và 4 đơn vị được viết là

A. 54 B. 540 C. 504 D. 45

Câu 2: Số bị chia là 18, số chia là 2. Vậy thương bằng:

A. 6 B. 7 C. 8 D. 9

Câu 3: Hình bên có:

- A. 5 hình tứ giác
- B. 4 hình tứ giác
- C. 3 hình tứ giác
- D. 6 hình tứ giác





Câu 4: Tổng của 459 và số liền sau số tròn trăm nhỏ nhất có ba chữ số là:

A. 559 B. 358 C. 550 D. 560

Câu 5: Con lợn cân nặng 30kg. Cân nặng của mỗi con thỏ như nhau. Mỗi con thỏ cân nặng là:

A. 5kg B. 4kg C. 3kg D. 2kg





II. Tự luận (7 điểm)

Bài 1: Đặt tính rồi tính (1 điểm)

$54 + 18$

$61 - 37$

$373 - 156$

$128 + 265$

.....

.....

.....

Bài 2: Viết các số sau thành tổng các trăm, chục và đơn vị (1điểm)

$782 = \dots\dots\dots$

$236 = \dots\dots\dots$

Bài 3: Điền vào chỗ trống (1 điểm)

Số gồm 3 trăm và 7 đơn vị được viết là

Số liền trước của 250 là

$20 \text{ dm} = \dots\dots\dots \text{ cm}$

$1 \text{ 000 cm} = \dots\dots\dots \text{ m}$

Bài 4: Tính (1 điểm)

$5 \times 2 = \dots\dots\dots$

$2 \times 3 = \dots\dots\dots$

Bài 5: Sắp xếp các số 657, 706, 382, 543 theo thứ tự giảm dần (1đ)

.....

Bài 6: Nhóm của Nam có 10 bạn,

muốn đi xe đạp để đi tham quan thành

phố. 2 bạn sẽ đi chung 1 xe. Hỏi nhóm của Nam cần thuê mấy chiếc xe đạp? (2 điểm)

.....

.....

.....

.....

.....





Đề số 2

I. Phần trắc nghiệm (3 điểm)

Khoanh tròn vào chữ cái đặt trước câu trả lời đúng

Câu 1: Số liền sau của 570 là

- A. 571 B. 569 C. 561 D. 568

Câu 2: Số 687 được viết thành:

- A. $6 + 8 + 7$ B. $600 + 70 + 8$ C. $600 + 80 + 7$ D. $600 + 8 + 7$

Câu 3: Trong các phép tính sau, phép tính có kết quả lớn nhất là:

- A. $342 + 38$ B. $740 - 315$ C. $128 + 159$ D. $669 - 51$

Câu 4: Bà có 15 quả cam, chia đều cho 5 cháu. Số quả cam mỗi cháu nhận được là:

- A. 2 quả B. 3 quả
C. 4 quả D. 5 quả



Câu 5: Mẹ An đóng 4 bao thóc có cân nặng lần lượt là 51 kg, 45 kg, 52 kg và 60 kg. Bố An dùng xe máy chở các bao thóc đi bán. Vì xe chỉ chở nhiều nhất 150 kg nên bố đã để lại một bao thóc. Bao thóc để lại cân nặng là:

- A. 51kg B. 45kg C. 52kg D. 60kg



51 kg



42kg



52kg



60kg





II. Tự luận (6 điểm)

Bài 1: Số ? (1 điểm)

$2 \times 4 = \dots\dots\dots$

$5 \times \dots\dots\dots = 40 .$

$30 : 5 = \dots\dots\dots$

$\dots\dots\dots : 5 = 4$

Bài 2: Tính (1điểm)

$262 + 418 - 350 = \dots\dots\dots$
 $= \dots\dots\dots$

$565 \text{ m} - 127 \text{ m} + 81 \text{ m} = \dots\dots\dots$
 $= \dots\dots\dots$

Bài 3: Số (2 điểm)

$2 \times \dots\dots\dots = 14$

$\dots\dots\dots : 5 = 7$

$5 \times \dots\dots\dots = 40$

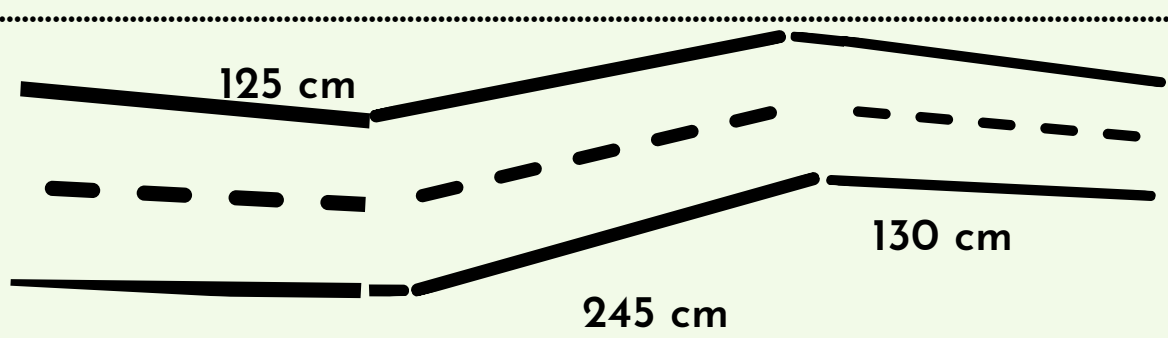
$\dots\dots\dots : 2 = 8$

Bài 4: Điền > ; < ; = (1 điểm)

$20 : 2 \dots\dots\dots 5 \times 2$

$563 + 209 \dots\dots\dots 875 - 163$

Bài 5: Để về đến nhà, Kiến cần đi quãng đường dài bao nhiêu mét? (1đ)



Bài 6: Vụ này, nhà An thu hoạch được 455 kg khoai tây, nhiều hơn vụ trước 92 kg. Hỏi vụ trước nhà An thu hoạch được bao nhiêu ki-lô-gam khoai tây? (1điểm)

.....

.....

.....

.....





Đề số 3

I. Phần trắc nghiệm (3 điểm)

Khoanh tròn vào chữ cái đặt trước câu trả lời đúng

Câu 1: Số gồm 2 trăm và 4 đơn vị đọc là

- A. hai trăm bốn mươi B. hai trăm linh tư
C. hai trăm tư D. hai không bốn

Câu 2: Số 15 là tích của hai số nào:

- A. 2 và 5 B. 3 và 5 C. 2 và 7 D. 2 và 9

Câu 3: Các số 650, 374, 529, 431 sắp xếp theo thứ tự từ bé đến lớn:

- A. 650; 529; 431; 374
B. 374; 431; 529; 650
C. 374; 529; 431; 650
D. 431; 529; 374; 650

Câu 4: Số liền sau của số lớn nhất có 3 chữ số là:

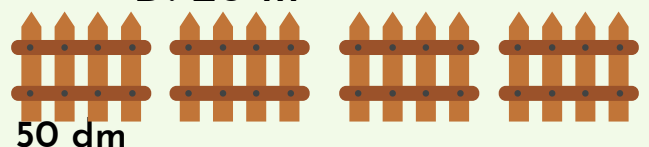
- A. 997 B. 998 C. 999 D. 1000

Câu 5: Hôm nay là thứ tư, ngày 15 tháng 4. Vậy sinh nhật Mai, ngày 24 tháng 4 là thứ mấy?

- A. thứ ba B. thứ tư C. thứ năm D. thứ sáu

Câu 6: Bố An làm hàng rào lưới ngăn không cho gà vào vườn. Bố đóng 4 chiếc cọc, các cọc cách đều nhau 50 dm. Vậy để làm hàng rào, bố An cần mua bao nhiêu mét lưới?

- A. 150 m B. 200 m C. 15 m D. 20 m





II. Tự luận (7 điểm)

Bài 1: Đặt tính rồi tính (1 điểm)

$665 + 37$

$347 - 25$

$676 - 349$

$285 + 450$

.....

.....

.....

Bài 2: Tính (1 điểm)

$167 + 218 - 190 =$

$873 - 535 + 271 =$

Bài 3: > ; < ; = (1 điểm)

$5 \times 4 \dots\dots\dots 2 \times 10$

$635 + 109 \dots\dots\dots 930 - 118$

Bài 4: Viết phép tính vào chỗ trống (1 điểm)


Có tất cả bao nhiêu quả táo?



..... = quả

Chia đều vào các lọ, mỗi lọ có mấy bông hoa?

..... = bông hoa



Bài 5: Sắp xếp các số 357, 206, 182, 543 theo thứ tự tăng dần (1đ)

.....

Bài 6: Nghệ An cách Hà Nội 350 km. Nghệ An ở cách xa Hà Nội nhiều hơn so với Thanh Hóa là 200 km. Hỏi Thanh Hóa ở cách Hà Nội bao nhiêu ki-lô-mét? (2 điểm)

.....

.....

.....





Đề số 4

I. Phần trắc nghiệm (3 điểm)

Khoanh tròn vào chữ cái đặt trước câu trả lời đúng

Câu 1: Số gồm 9 trăm và 5 đơn vị viết là

- A. 95 B. 59 C. 905 D. 950

Câu 2: Số 349 là số liền trước của số nào:

- A. 348 B. 350 C. 358 D. 360

Câu 3: Số tròn chục lớn nhất có 3 chữ số là tổng của hai số nào?

A. 563 và 327

B. 810 và 90

C. 240 và 740

D. 152 và 838

Câu 4: Trong các phép tính sau, phép tính có kết quả nhỏ nhất là:

- A. $542 - 318$ B. $638 - 455$ C. $454 + 27$ D. $547 + 80$

Câu 5: Bà đi chợ mua 5 chai nước mắm. Mỗi chai đựng 2 l nước mắm. Số lít nước mắm bà mua tất cả là:

- A. 8 l B. 9 l C. 10 l D. 12 l



Câu 6: Mẹ cắt tấm vải dài 12 m thành 2 mảnh vải bằng nhau.

Độ dài của mỗi mảnh vải là ?

- A. 6m B. 7 m C. 8 m D. 5 m





II. Tự luận (7 điểm)

Bài 1: Đặt tính rồi tính (1 điểm)

$625 + 155$

$946 - 581$

$831 - 416$

$305 + 285$

.....

.....


.....

Bài 2: Tính (1 điểm)

$284 + 302 - 425 = \dots\dots\dots$

$465 - 25 + 336 = \dots\dots\dots$

Bài 3: Hình bên có hình tứ giác(1 điểm)



Bài 4: >;<;= (1 điểm)

$72 + 28 \dots\dots\dots 99 - 16$

$835 - 207 \dots\dots\dots 628$

Bài 5: Số học sinh nam của khối lớp Hai là 145 em, nhiều hơn số học sinh nữ là 39 em.

a. Hỏi khối học sinh lớp Hai có bao nhiêu em học sinh? (2 điểm)

.....

.....

.....

.....

b) Để giúp đỡ các bạn nhỏ vùng cao, mỗi học sinh của trường đã quyên góp 1 quyển vở. Hỏi khối lớp Hai đã quyên góp được bao nhiêu quyển vở? (1đ)

Khối lớp Hai đã quyên góp được quyển vở

