



# TỔÁN

TIẾT 3



# *Kiểm tra bài cũ*

## Ñaët tính roài tính

$$251 + 312 = 563$$

$$\begin{array}{r} 251 \\ + 312 \\ \hline 563 \end{array}$$

$$104 + 551 = 655$$

$$\begin{array}{r} 104 \\ + 551 \\ \hline 655 \end{array}$$

**Thứ năm ngày 9 tháng 9 năm 2021**

**Toán**

**LUYỆN TẬP**



# 1. Ñaët tính roài tính:

$$\text{a) } 324 + 405 = 729 \quad 761 + 128 = 889$$

$$\begin{array}{r} 405324 \\ + 405 \\ \hline 729 \end{array}$$

$$\begin{array}{r} 128761 \\ + 128 \\ \hline 889 \end{array}$$

$$25 + 721 = 746$$

$$\begin{array}{r} 25 \\ + 721 \\ \hline 746 \end{array}$$

# 1. Ñaët tính roài tính:

$$\text{b) } 645 - 302 = 343 \quad 666 - 333 = 333$$

$$\begin{array}{r} 645 \\ - 302 \\ \hline \end{array}$$

$$\begin{array}{r} 645 \\ - 302 \\ \hline 343 \end{array}$$

$$343$$

$$\begin{array}{r} 666 \\ - 333 \\ \hline \end{array}$$

$$\begin{array}{r} 666 \\ - 333 \\ \hline 333 \end{array}$$

$$333$$

$$485 - 72 = 413$$

$$\begin{array}{r} 485 \\ - 72 \\ \hline \end{array}$$

$$\begin{array}{r} 485 \\ - 72 \\ \hline 413 \end{array}$$

$$413$$

## Baøi 2. Tìm x

a)  $x - 125 = 344$

$$x = 344 + 125$$

$$x = 469$$

b)  $x + 125 =$

$$266$$

$$x = 266 - 125$$

$$x = 141$$

**Baøi 3 : Moät ñoãi ñoàng dieãn  
theã duïc goàm *285 ngöøøi,*  
*trong ñoù* coù *140 nam.* Hoûi  
*ñoãi ñoàng dieãn theã duïc ñoù*  
*coù* bao nhieâu **Toùm** ?**

**taét**  
**Coù : 285 ngöøøi**

**Nam : 140 ngöøøi**

**Nöõ : ... ngöøøi**

**?**

# Baøi giaûi

Soá baïn nöõ ñoäi ñoàng dieãn  
theå duïc:

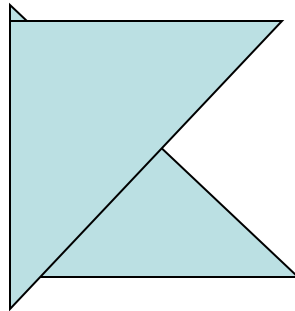
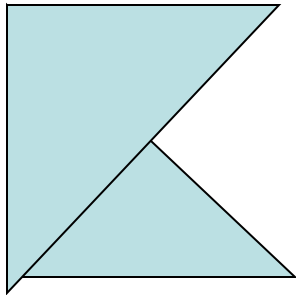
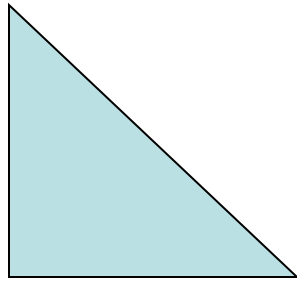
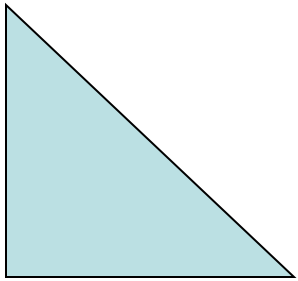
$$285 - 140 = 145 \text{ ( nöõ )}$$

Ñaùp soá : 145 nöõ





# Bài 4: Xeáp hình





*CHUYỀN TIẾT*

# Kiểm tra bài

**CUỐI:**  
Tìm X :

$$X + 224 =$$

$$589 \quad X = 589 - 224$$

$$X = 365$$

$$X - 145 = 632$$

$$X = 632 +$$

$$145 = 777$$

# *TOÁN*

COẶNG CAÙC SỎÁ CỜU BA CHỖỖ SỎÁ  
(CỜU NHỜU MỎẮT LAÀN)

a)  $435 + 127 = ?$

$$\begin{array}{r} + 435 \\ + 127 \\ \hline 562 \end{array}$$

\* 5 cộng 7 bằng 12, viết 2 nhớ 1

\* 3 cộng 2 bằng 5, thêm 1 bằng 6,

\* 4 cộng 1 bằng 5,

viết 5

$$435 + 127 = 562$$

b)  $256 + 162 = ?$

$$\begin{array}{r} + 256 \\ + 162 \\ \hline 418 \end{array}$$

\* 6 cộng 2 bằng 8,  
viết 8  
\* 5 cộng 6 bằng 11,  
viết 1 nhớ 1

\* 2 cộng 1 bằng 3,  
thêm 1 bằng 4,  
viết 4

$256 + 162 = 418$

# Baøi 1: Tính

$$\begin{array}{r} 256 \\ + 1\overset{\cdot}{2}5 \\ \hline 381 \end{array}$$

$$\begin{array}{r} 417 \\ + 1\overset{\cdot}{6}8 \\ \hline 585 \end{array}$$

$$\begin{array}{r} 555 \\ + 2\overset{\cdot}{0}9 \\ \hline 764 \end{array}$$

# Baøi 1: Tính

$$\begin{array}{r} 146 \\ + 214 \\ \hline 360 \end{array}$$

$$\begin{array}{r} 227 \\ + 337 \\ \hline 564 \end{array}$$



# Baøi 2: Tính

$$\begin{array}{r} 256 \\ + 182 \\ \hline 438 \end{array}$$

$$\begin{array}{r} 452 \\ + 361 \\ \hline 813 \end{array}$$

$$\begin{array}{r} 166 \\ + 283 \\ \hline 449 \end{array}$$

# Baøi 2: Tính

$$\begin{array}{r} 372 \\ + 136 \\ \hline 508 \end{array}$$

$$\begin{array}{r} 465 \\ + 172 \\ \hline 637 \end{array}$$

# Baøi 3 : Ñaët tính roài

$$235 + 417$$

$$\begin{array}{r} 235 \\ + 417 \\ \hline 652 \end{array}$$

$$256 + 70$$

$$\begin{array}{r} 256 \\ + 70 \\ \hline 326 \end{array}$$

# Baøi 3 : Ñaët tính roài

~~333~~ + ~~47~~ = ~~380~~

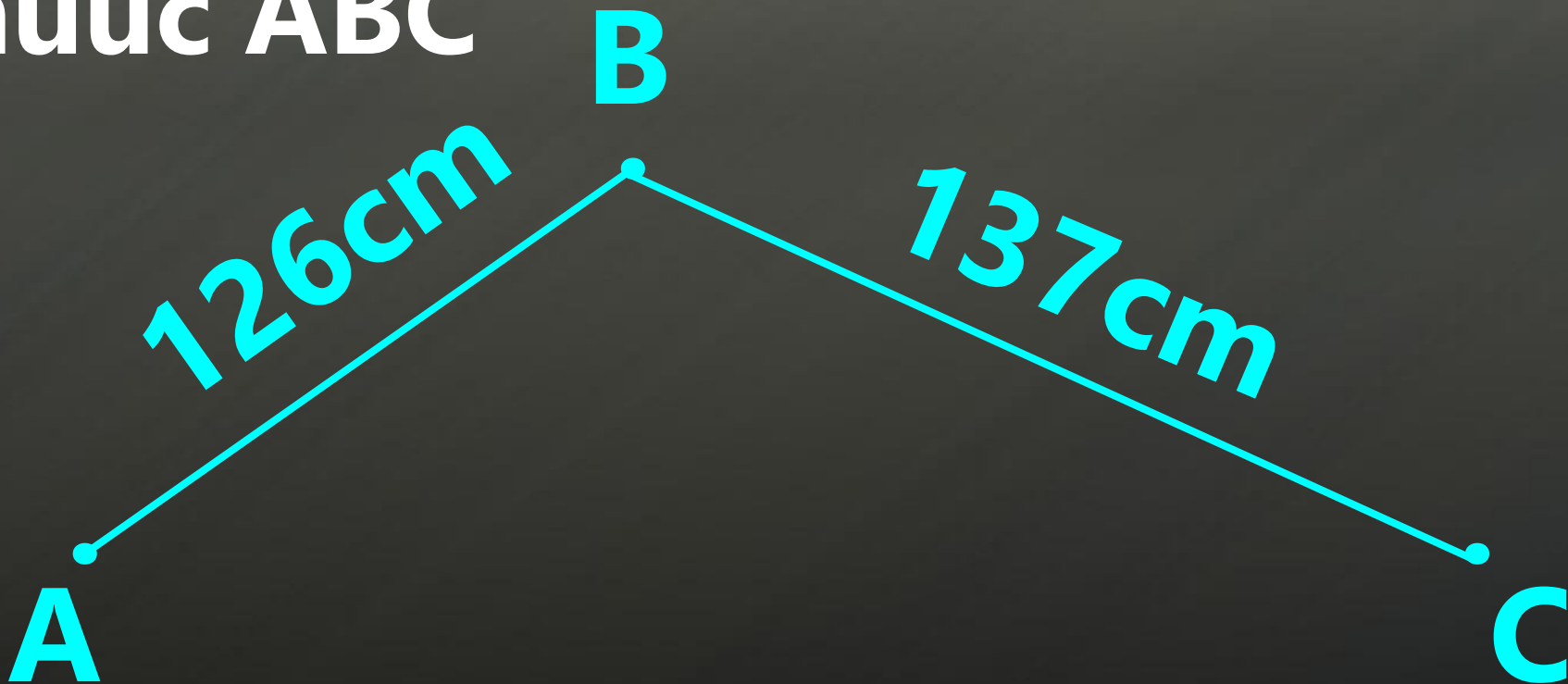
$$\begin{array}{r} 333 \\ + \quad \cdot \\ 47 \\ \hline 380 \end{array}$$

$$60 + \quad = 420$$

$$\begin{array}{r} 360 \\ \cdot 60 \\ + \\ 360 \\ \hline 420 \end{array}$$

**Baøi 4 :**

**Tính ñoä daøi ñöông gaáp  
khuùc ABC**



# Gia

Độ dài đường gấp khúc ABC là:

$$126 + 137 = 263$$

(cm)

Naùp soá : 263

cm

# TRUNG CHƯƠNG VÀNG

1)  $333 + 47 = ?$

a) 370

b) 380

c) 390

390

2)  $60 + 368 =$

?

a) 428

b) 328

c) 320

320



**GIẢI LAO**





# Môn: Tự nhiên và xã hội

## Bài 2: Nên thờ như thế nào?



# Khởi động:

Cơ quan hô hấp gồm  
mũi, khí quản, phế  
quản và 2 lá phổi



# Khởi động:

Nhờ có hoạt động thở  
Nếu vai trò của hoạt  
cơ thể chúng ta luôn  
động thở?  
có đủ oxy để sống.



Nhìn vào hình và nói đường đi của không khí khi hít vào, thở ra ?



**Hít vào**

**Thở ra**

**Tự nhiên và xã hội**

**Bài 2: Nên thờ như  
thế nào?**



# Hoạt động 1: Khám phá



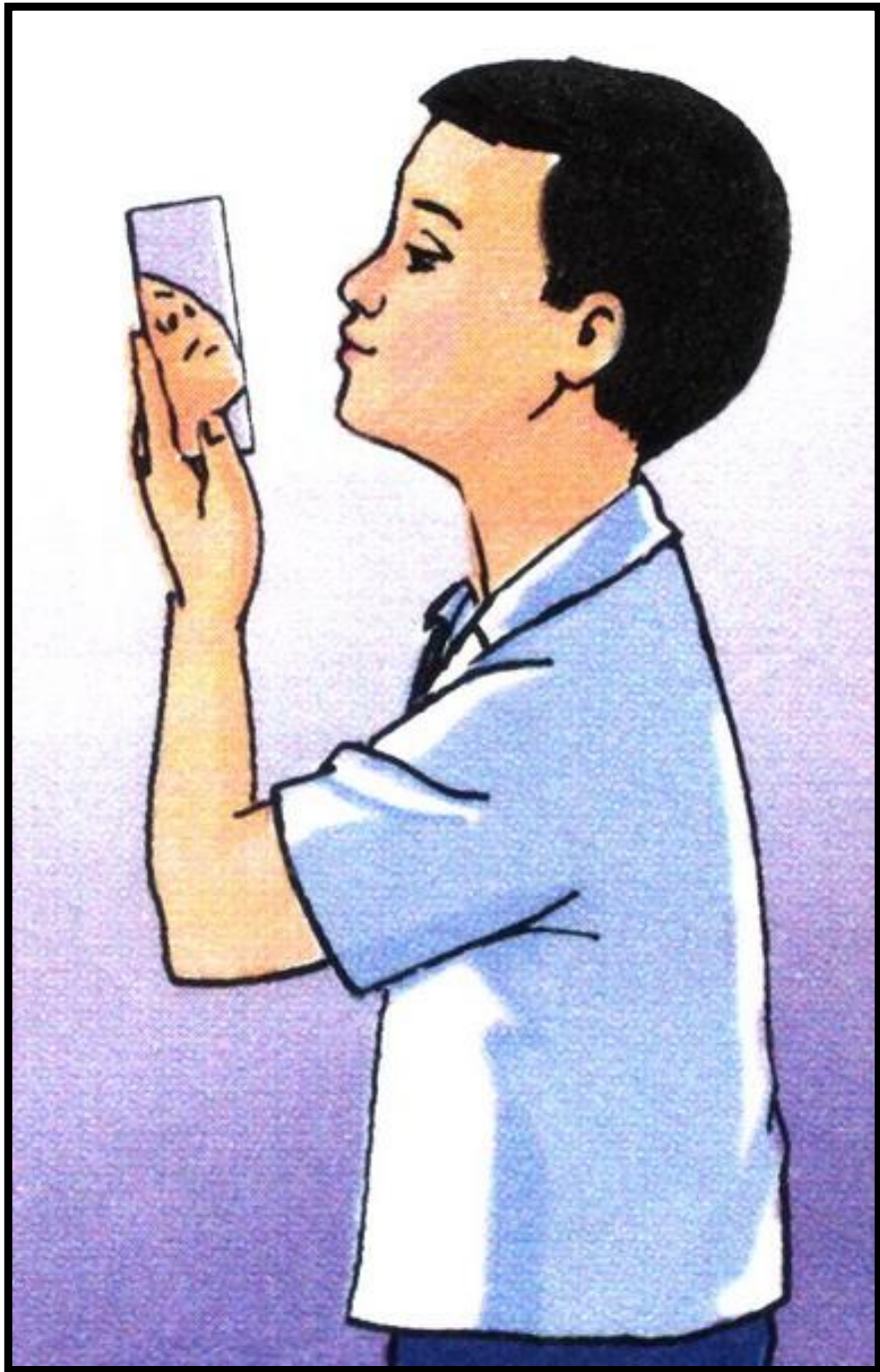


(?) Các con nhìn thấy gì trong mũi?

(?) Khi bị sổ mũi, con thấy có gì chảy ra từ hai lỗ mũi?

(?) Hằng ngày, dùng khăn sạch lau phía trong mũi, con thấy trên khăn có gì?

(?) Tại sao thở bằng mũi tốt hơn thở bằng miệng ?



*Quan sát bên trong mũi, các con nhìn thấy gì trong mũi?*

*Trong mũi có lông mao, mao mạch và các tuyến dịch nhầy*

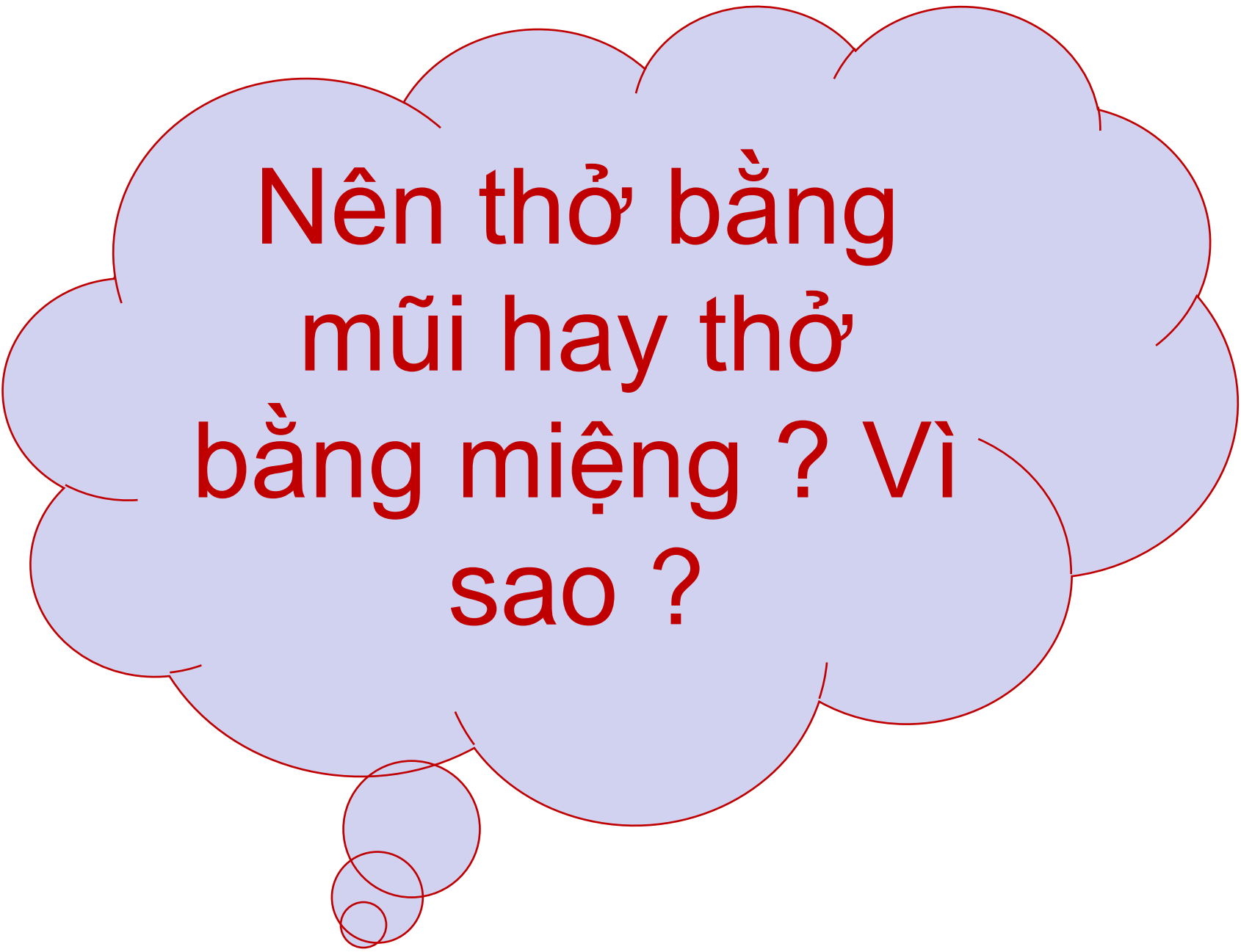


Hằng ngày,  
dùng khăn sạch  
lau phía trong  
mũi, con thấy  
trên khăn có gì?





Khi bị sổ mũi, con thấy có gì  
chảy ra từ hai lỗ mũi?




**Nên thở bằng  
mũi hay thở  
bằng miệng ? Vì  
sao ?**

# KẾT LUẬN

+ Trong lỗ mũi có nhiều lông để cản bớt bụi trong không khí khi ta hít vào.

+ Ngoài ra, trong mũi còn có nhiều tuyến tiết dịch nhầy để cản bụi, diệt khuẩn, tạo độ ẩm, đồng thời có nhiều mạch máu sưởi ấm không khí hít vào.





**Hoạt động 2:  
Nên thở  
như thế nào ?**




Quan sát hình 3,4,5 trang 7 trong SGK và trả lời câu hỏi:

**Bức tranh nào thể hiện không khí trong lành, bức tranh nào thể hiện không khí có nhiều khói bụi?**



Em cảm thấy thế nào khi được hít thở không khí trong lành ở trong các công viên, vườn hoa ?



Khi đi ngoài đường có nhiều khói, bụi hoặc ở trong bếp đun bằng củi, rơm, than, em cảm thấy thế nào?





# Thở không khí trong lành có ích lợi gì ?



***Thở không khí trong lành giúp cung cấp đủ ô xi thấm vào máu đi nuôi cơ thể làm cơ thể khỏe mạnh.***

# Tác hại của việc hít thở không khí ô nhiễm là gì?



*Hít thở không khí ô nhiễm có nhiều khí các – bô – níc, bụi bẩn có hại cho sức khỏe*

# KẾT LUẬN

- Không khí trong lành là không khí chứa nhiều khí oxi, ít khí các-bô-níc và khói bụi... Khí oxi cần cho hoạt động sống của cơ thể. Vì vậy, thở không khí trong lành sẽ giúp ta khỏe mạnh.

- Không khí chứa nhiều khí các-bô-níc, khói, bụi là không khí bị ô nhiễm. Vì vậy, thở không khí bị ô nhiễm sẽ có hại cho sức khỏe.





## NHIỆM VỤ VỀ NHÀ

- 1. Làm vở bài tập toán trang 5 và trang 6.**
- 2. Chép chính tả bài Chơi chuyền ( trang 10)..**

